


INVESTICE DO ROZVOJE VZDĚLÁVÁNÍ

Identifikátor materiálu: EU - 3 - 24 Česká republika, kraje

Anotace	Jihočeský kraj
Autor	Mgr. Kateřina Dvorská
Jazyk	Čeština
Očekávaný výstup	Seznámení s polohou kraje, průmyslem v kraji, přírodními a historickými památkami kraje.
Speciální vzdělávací potřeby	- žádné -
Klíčová slova	Kraj, kulturní památky
Druh učebního materiálu	Pracovní list
Druh interaktivity	Výklad / aktivita
Cílová skupina	Žák
Stupeň a typ vzdělávání	Základní vzdělávání žáků s lehkým mentálním postižením
Typická věková skupina	12 - 15 let / 7. ročník
Datum vytvoření materiálu	26. 2. 2012



Jihočeský kraj

Rozloha: druhý největší kraj ČR

Povrch: Šumava

Novohradské hory

Třeboňská pánev

Budějovická pánev

Rybníky: Rožmberk (chovný –kapři)

Podnebí: chladnější

Řeky: Vltava, Otava, Lužnice

Historická města: Vyšší Brod, Rožmberk, Český Krumlov, České Budějovice,

Hluboká nad Vltavou

Důležitá města:


České Budějovice – sídlo krajského úřadu

Strakonice , Písek – textilní průmysl

Třeboň – rybníkářství

Temelín – jaderná elektrárna

Mapa Jihočeského kraje:



Zámek Hluboká

1. Doplň vynechaná slova v textu:

Na hranicích s Rakouskem a Německem se nalézá Národní park.....

Boubín je známý svým

Třeboňská a Budějovická pánev mají mnoho

Největší rybník v České republice se jmenuje

V rybnících se chovají

2. Doplň křížovku:

1.								
2.								
3.								
4.								
5.								
6.								

1. Středisko rybníkářství.
2. Město, které se proslavilo husitskou minulostí.
3. Pivovar, který proslavil město ve světě.
4. Zámek – perla Jižních Čech.
5. Město ležící na řece Otavě.
6. Do Vltavy se vlévá řeka.....

1. Dopln vynechaná slova v textu:

Na hranicích s Rakouskem a Německem se nalézá Národní park Šumava.

Boubín je známý svým pralesem.

Třeboňská a Budějovická pánev mají mnoho rybníků.

Největší rybník v České republice se jmenuje Rožmberk.

V rybnících se chovají kapři.

2. Doplň křížovku:

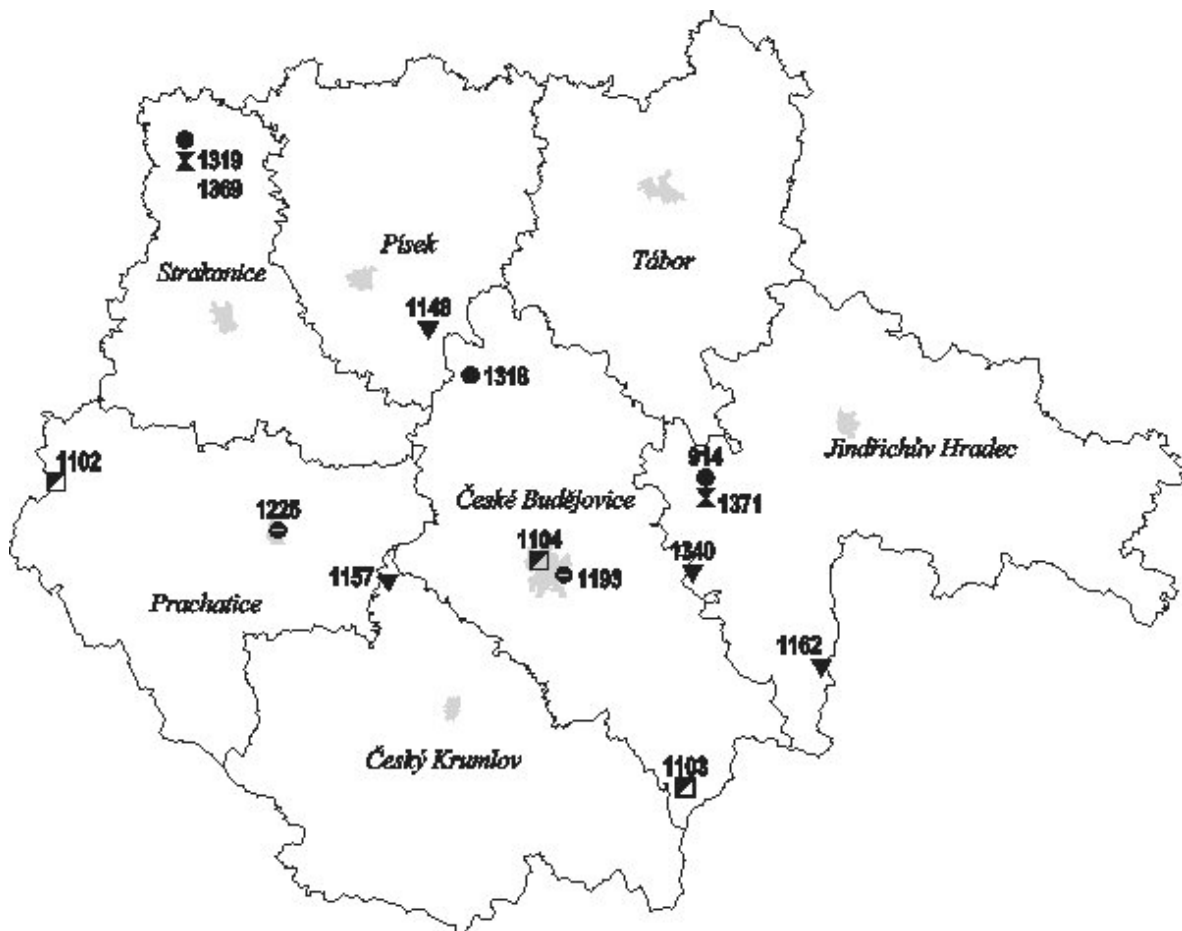
1.	T	Ř	E	B	O	Ň		
2.	T	Á	B	o	R			
3.			B	U	D	V	A	R
4.	H	L	U	B	O	K	Á	
5.			P	Í	S	E	K	
6.	L	U	Ž	N	I	C	E	

1. Středisko rybníkářství.
2. Město, které se proslavilo husitskou minulostí.
3. Pivovar, který proslavil město ve světě.
4. Zámek – perla Jižních Čech.
5. Město ležící na řece Otavě.
6. Do Vltavy se vlévá řeka.....

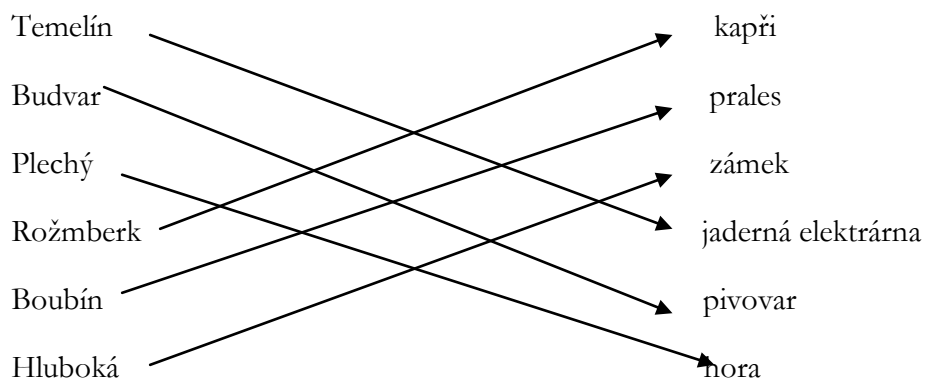
3. Vytvoř správné dvojice:

Temelín	kapři
Budvar	prales
Plechý	zámek
Rožmberk	jaderná elektrárna
Boubín	pivovar
Hluboká	hora

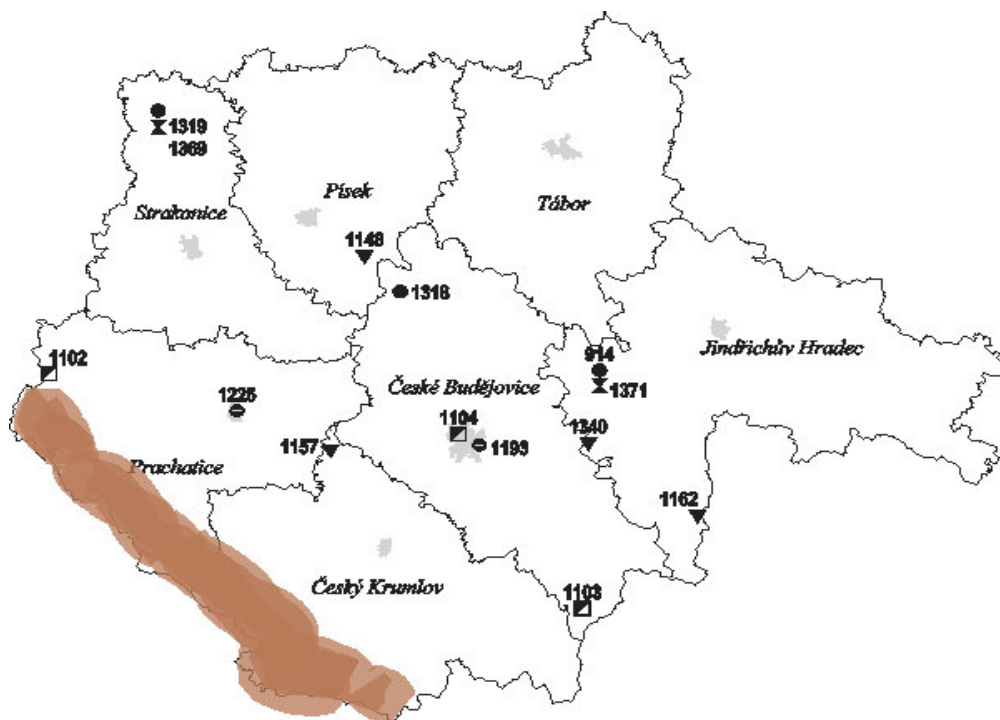
4. Zakresli do mapy Šumavu – hnědou barvou:



1. Vytvoř správné dvojice:



2. Zakresli do mapy Šumavu – hnědou barvou:



Použité zdroje:

http://www.obrazky.cz/detail?q=Jiho%C4%8Desk%C3%BD%20kraj&offset=21&limit=20&bUrlPar=size%3D50400%26filter%3D1&resNum=32&ref=http%3A//www.obrazky.cz/%3Fstep%3D20%26filter%3D1%26s%3D%26size%3D50400%26sld%3DpJYhTJ3vwwGjj6naddG7%26orientation%3D%26q%3DJiho%25C4%258Desk%25C3%25BD%2Bkraj&resID=fhIrtIzIC9h1V_aqwBmUW-oeOSSRUXYaX5WoH6-UsFw&imgURL=http%3A//www.celysvet.cz/foto/jihocesky-kraj_3.jpg&pageURL=http%3A//www.celysvet.cz/fotky-jihocesky-kraj-foto-obrazky&imgX=129&imgY=97&imgSize=7&thURL=http%3A//media3.picsearch.com/is%3FfhIrtIzIC9h1V_aqwBmUW-oeOSSRUXYaX5WoH6-UsFw&thX=128&thY=96&qNoSite=Jiho%C4%8Desk%C3%BD%2Bkraj&siteWWW=&sld=pJYhTJ3vw84cj2LJPupT

http://www.celysvet.cz/images.php?fotka=jihocesky-kraj_19&dd=2028

http://www.google.cz/imgres?q=mapy+%C4%8Dr-kraje+Jiho%C4%8Desk%C3%BD+kraj&hl=cs&gbv=2&biw=1024&bih=419&tbnid=SDhTIfV7Bd7qCM:&imgrefurl=http://jihoceskykraj.webnode.cz/mapy/&docid=4WyeubCvSY-H9M&imgurl=http://files.jihoceskykraj.webnode.cz/200000051-20cf821c90/sta_jc.gif&w=600&h=471&ei=9QXVTqmJDirJswbt2MzDDg&zoom=1&iact=rc&dur=421&sig=104947059189062722562&page=1&tbnh=102&tbnw=130&start=0&ndsp=14&ved=1t:429,r:2,s:0&tx=42&ty=31