

## INVESTICE DO ROZVOJE VZDĚLÁVÁNÍ

Identifikátor materiálu: EU - 3 - 23 Česká republika, kraje

|                                     |  |
|-------------------------------------|--|
| <b>Anotace</b>                      | Středočeský kraj   |
| <b>Autor</b>                        | Mgr. Kateřina Dvorská  |
| <b>Jazyk</b>                        | Čeština  |
| <b>Očekávaný výstup</b>             | Seznámení s polohou kraje, průmyslem v kraji, přírodními a historickými památkami kraje. |
| <b>Speciální vzdělávací potřeby</b> | - žádné -  |
| <b>Klíčová slova</b>                | Kraj, kulturní památky   |
| <b>Druh učebního materiálu</b>      | Pracovní list  |
| <b>Druh interaktivity</b>           | Výklad / aktivita  |
| <b>Cílová skupina</b>               | Žák  |
| <b>Stupeň a typ vzdělávání</b>      | Základní vzdělávání žáků s lehkým mentálním postižením                                   |
| <b>Typická věková skupina</b>       | 12 - 15 let / 7. ročník  |
| <b>Datum vytvoření materiálu</b>    | 21. 11. 2011   |

# Středočeský kraj



obrázek č.1

**Rozloha:** Kraj leží ve středu Čech. Je podle rozlohy největším  
Krajem v ČR.

**Počet obyvatel:** Přes 1 milion.

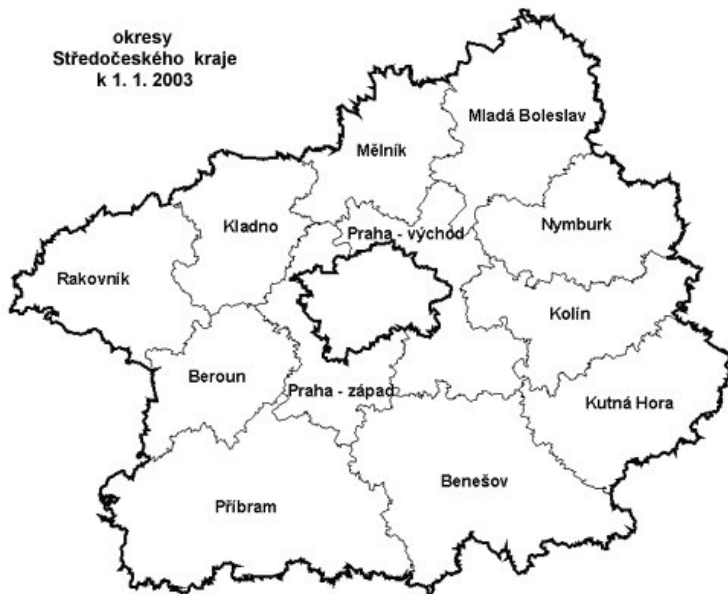
**Povrch:** Rovinatý , vrchovina Brdy, úrodné nížiny(zelenina,  
obilí, cukrová řepa).

**Vodstvo:** Labe, Vltava( vodní nádrže), Sázava, Berounka

**Památky:** hrady – Karlštejn, Křivoklát

zámek – Konopiště, město – Kutná Hora

# 1. Vypiš z mapky všechna velká města



Obrázek č.2

.....

.....

.....

.....

.....

## 2. Doplň vynechaná slova ve větách:

Do Labe se vlévá řeka ....., která protéká městem  
..... . Řeka .....protéká středem  
kraje, k jejímu pravému přítoku patří řeka .....  
a k levému řeka ..... . Vltava se vlévá do Labe

u města..... . Na řece Labi leží lázně ..... .  
Chemické závody se nacházejí ve městech .....  
a ..... .Středočeský kraj má nejhustší síť  
....., rychlostních silnic a ..... .

3. Spoj správné údaje:

|            |                      |
|------------|----------------------|
| Neratovice | lázně                |
| Mělník     | řeka                 |
| Berounka   | vrchovina            |
| Poděbrady  | chemické závody      |
| Brdy       | soutok Vltavy a Labe |

4. Kolik řek protéká středočeským krajem?

Napiš jejich názvy, použij atlas ČR.

.....  
.....  
.....  
.....  
.....

5. Najdi v textu názvy tří historických památek středočeského kraje. Nápodvěda- podtrhni každé druhé písmenko:

KEAJRMLNŠDTVEKJMNKKPOLNVOUPDIXŠFTDECKJUBTVN  
IÁ  
HBOTRCA

6. Co vidíš na obrázku?



Obrázek č.3

.....



Obrázek č.4

---



Obrázek č.5

---



Obrázek č.6

---



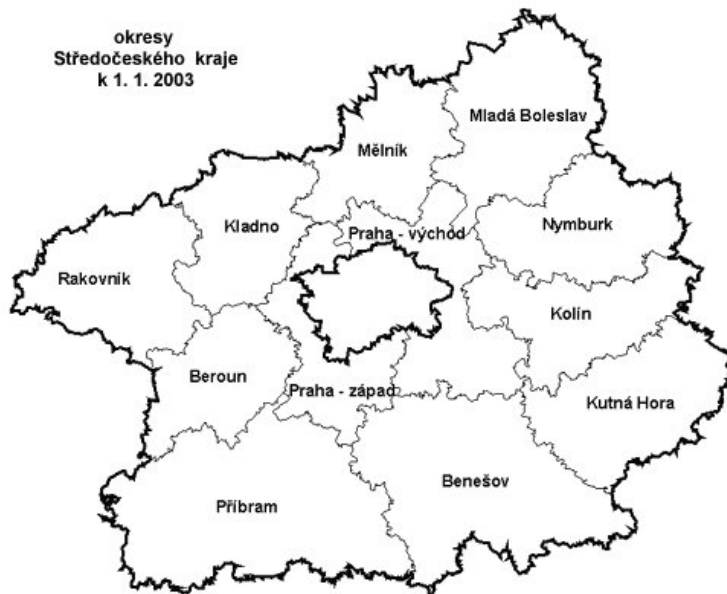
Obrázek č.7

---



Obrázek č.8

## 1. Vypiš z mapky všechna velká města



Obrázek č.2

Benešov, Příbram, Kutná Hora, Kolín, Beroun, Kladno, Rakovník, Mělník, Mladá Boleslav, Nymburk.

## 2. Doplň vynechaná slova ve větách:

Do Labe se vlévá řeka **Jizera**, která protéká městem **Mladá Boleslav**. Řeka **Vltava** protéká středem kraje, k jejímu pravému přítoku patří řeka **Sázava** a k levému řeka **Berounka**. Vltava se vlévá do Labe

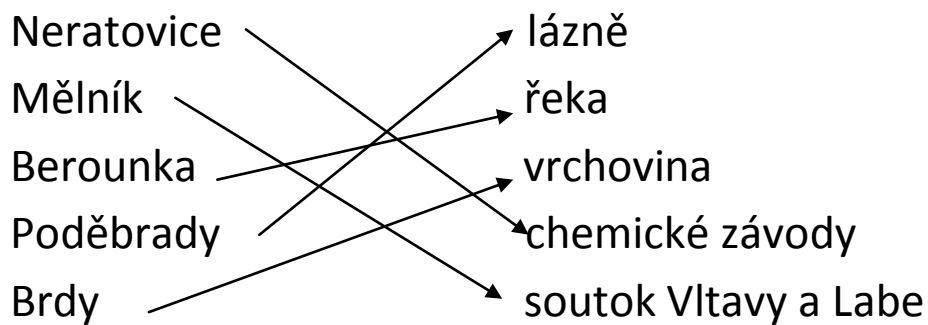
u města **Mělník**. Na řece Labi leží lázně **Poděbrady**.

Chemické závody se nacházejí ve městě **Neratovice**



a **Kralupy nad Vltavou** .Středočeský kraj má nejhustší síť **dálnic**, rychlostních silnic a **železnic** .

3. Spoj správné údaje:



4. Kolik řek protéká středočeským krajem?

Napiš jejich názvy, použij atlas ČR.

**Vltava, Berounka, Labe, Jizera, Sázava**

5. Najdi v textu názvy tří historických památek  
středočeského kraje. Nápodvěda- podtrhni každé druhé  
písmenko:

KEAJRMLNŠDTVEKJMNKKPOLNVOUPDIXŠFTDĚCKJUBTVN  
IÁ  
HBOTRCA

6. Co vidíš na obrázku?



Obrázek č.3

Karlštejn



Obrázek č.4

**Konopiště**



Obrázek č.5

**Kladno- historická radnice**



Obrázek č.6

**Mělník soutok Vltavy a Labe**



Obrázek č.7

**Neratovice –chemické závody**



Obrázek č.8      **Historické muzeum - Příbram**

## Použité zdroje:

1. [images/Stredocesky\\_kraj\\_znak.jpg&w=250&h=285&ei=ZKhCT5n2LoGO4gSNn7mADA&zoom=1&iact=hc&vpx=163&vpy=24&dur=6240&hovh=228&hovw=200&tx=91&ty=162&sig=103273427679067506849&page=1&tbnh=93&tbnw=82&start](http://www.google.cz/imgres?q=Erb+st%C5%99edo%C4%8Desk%C3%A9ho+kraje&hl=cs&biw=1024&bih=388&gbv=2&tbn=isch&tbnid=QuXc15yDykTJ9M:&imgrefurl=http://www.arg.cz/&docid=uy3unGIHw9L-JM&imgurl=http://www.arg.cz/=0&ndsp=16&ved=0CEYQrQMwAQ)

2.

3.

4.

5.

[19&hovw=230&tx=164&ty=196&sig=103273427679067506849&page=1&tbnh=94&tbnw=97&start=0&ndsp=14&ved=0CEQQRQMwAQ](http://www.google.cz/imgres?q=m%C4%9Bln%C3%ADk+soutok&hl=cs&gbv=2&biw=1024&bih=388&tbnid=qSPbtGVG5Dbo5M:&imgrefurl=http://www.stihacka.cz/cz/fotky.htm&docid=SdUjId-ncSbEcM&imgurl=http://www.stihacka.cz/images/Soutok.jpg&w=448&h=336&ei=pEpDT7aqGYKUOoq9nYoP&zoom=1&iact=hc&vpx=358&vpy=75&dur=2715&hovh=194&hovw=259&tx=199&ty=155&sig=103273427679067506849&page=1&tbnh=92&tbnw=130&start=0&ndsp=12&ved=0CEgQrQMwAg)

[6.http://www.google.cz/imgres?q=m%C4%9Bln%C3%ADk+soutok&hl=cs&gbv=2&biw=1024&bih=388&tbnid=qSPbtGVG5Dbo5M:&imgrefurl=http://www.stihacka.cz/cz/fotky.htm&docid=SdUjId-ncSbEcM&imgurl=http://www.stihacka.cz/images/Soutok.jpg&w=448&h=336&ei=pEpDT7aqGYKUOoq9nYoP&zoom=1&iact=hc&vpx=358&vpy=75&dur=2715&hovh=194&hovw=259&tx=199&ty=155&sig=103273427679067506849&page=1&tbnh=92&tbnw=130&start=0&ndsp=12&ved=0CEgQrQMwAg](http://www.google.cz/imgres?q=m%C4%9Bln%C3%ADk+soutok&hl=cs&gbv=2&biw=1024&bih=388&tbnid=qSPbtGVG5Dbo5M:&imgrefurl=http://www.stihacka.cz/cz/fotky.htm&docid=SdUjId-ncSbEcM&imgurl=http://www.stihacka.cz/images/Soutok.jpg&w=448&h=336&ei=pEpDT7aqGYKUOoq9nYoP&zoom=1&iact=hc&vpx=358&vpy=75&dur=2715&hovh=194&hovw=259&tx=199&ty=155&sig=103273427679067506849&page=1&tbnh=92&tbnw=130&start=0&ndsp=12&ved=0CEgQrQMwAg)

[7.http://www.google.cz/imgres?q=neratovice+chemick%C3%BD+pr%C5%AFmysl&hl=cs&gbv=2&biw=1024&bih=388&tbnid=vQgnwiUs3fljHM:&imgrefurl=http://www.profimedia.cz/fotografie/chemicky-prumysl-spolana-neratovice-stredocesky-kraj-ceska/0012203777/&docid=OOFrCLmDljh9UM&imgurl=http://www.profimedia.cz/fotografie/chemicky-prumysl-spolana-neratovice-stredocesky-kraj/profimedia-0012203777.jpg&w=640&h=426&ei=dUtDT-i0ClnpOYvK4YoP&zoom=1&iact=hc&vpx=653&vpy=69&dur=2839&hovh=183&hovw=275&tx=105&ty=133&sig=103273427679067506849&page=1&tbnh=89&tbnw=116&start=0&ndsp=16&ved=0CHkQrQMwDg](http://www.google.cz/imgres?q=neratovice+chemick%C3%BD+pr%C5%AFmysl&hl=cs&gbv=2&biw=1024&bih=388&tbnid=vQgnwiUs3fljHM:&imgrefurl=http://www.profimedia.cz/fotografie/chemicky-prumysl-spolana-neratovice-stredocesky-kraj-ceska/0012203777/&docid=OOFrCLmDljh9UM&imgurl=http://www.profimedia.cz/fotografie/chemicky-prumysl-spolana-neratovice-stredocesky-kraj/profimedia-0012203777.jpg&w=640&h=426&ei=dUtDT-i0ClnpOYvK4YoP&zoom=1&iact=hc&vpx=653&vpy=69&dur=2839&hovh=183&hovw=275&tx=105&ty=133&sig=103273427679067506849&page=1&tbnh=89&tbnw=116&start=0&ndsp=16&ved=0CHkQrQMwDg)

[8http://www.google.cz/imgres?q=p%C5%99%C3%ADbram+hornick%C3%A9+muzeum&hl=cs&gbv=2&biw=1024&bih=388&tbnid=BVK2GqM96iP7VM:&imgrefurl=http://www.fototuristika.cz/tips/detail/404&docid=Dq3J-H\\_tu5ECKM&imgurl=http://www.fototuristika.cz/data/wysiwyg/tips/404/image/Hornick%2525C3%2525A9\\_muzeum\\_P%2525C5%252599%2525C3%2525ADbram\\_3.jpg&w=500&h=357&ei=V1FDT4yHFMuWOp23gfgO&zoom=1&iact=hc&vpx=467&vpy=20&dur=1856&hovh=190&hovw=266&tx=147&ty=125&sig=103273427679067506849&page=1&tbnh=95&tbnw=140&start=0&ndsp=12&ved=0CEwQrQMwAw](http://www.google.cz/imgres?q=p%C5%99%C3%ADbram+hornick%C3%A9+muzeum&hl=cs&gbv=2&biw=1024&bih=388&tbnid=BVK2GqM96iP7VM:&imgrefurl=http://www.fototuristika.cz/tips/detail/404&docid=Dq3J-H_tu5ECKM&imgurl=http://www.fototuristika.cz/data/wysiwyg/tips/404/image/Hornick%2525C3%2525A9_muzeum_P%2525C5%252599%2525C3%2525ADbram_3.jpg&w=500&h=357&ei=V1FDT4yHFMuWOp23gfgO&zoom=1&iact=hc&vpx=467&vpy=20&dur=1856&hovh=190&hovw=266&tx=147&ty=125&sig=103273427679067506849&page=1&tbnh=95&tbnw=140&start=0&ndsp=12&ved=0CEwQrQMwAw)