

## INVESTICE DO ROZVOJE VZDĚLÁVÁNÍ

Identifikátor materiálu: EU – 2 – 60 ČLOVĚK A PŘÍRODA

<b>Anotace</b>	Česká republika - opakování
<b>Autor</b>	Bc. Irena Staňková
<b>Jazyk</b>	Čeština
<b>Očekávaný výstup</b>	Procvičování a upevňování znalostí z učiva o České republice, pracovat lze samostatně nebo ve skupině. Žáci dostanou pracovní karty na vyplnění odpovědí. Vítězí hráč nebo skupina s nejvyšším počtem bodů.
<b>Speciální vzdělávací potřeby</b>	- žádné -
<b>Klíčová slova</b>	Hlavní město, Praha, národní symbol, Labe, Lipno...
<b>Druh učebního materiálu</b>	Vytvořeno v programu Smart, Microsoft Word
<b>Druh interaktivity</b>	Aktivita - test
<b>Cílová skupina</b>	Žák
<b>Stupeň a typ vzdělávání</b>	základní vzdělávání žáků s lehkým mentálním postižením
<b>Typická věková skupina</b>	6. ročník
<b>Datum vytvoření materiálu</b>	9. 4. 2012

ČESKÁ REPUBLIKA

Jméno: \_\_\_\_\_

Datum: \_\_\_\_\_

1	
2	
3	
4	
5	
6	
7	
8	
9	
10	
11	
12	
13	
14	
15	
16	
17	
18	
19	
20	

ČESKÁ REPUBLIKA

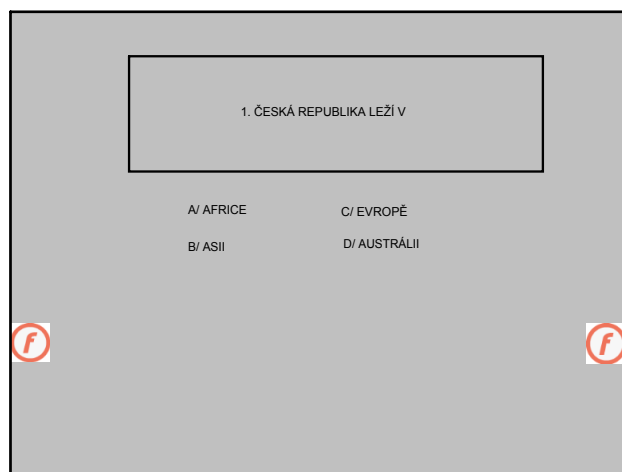
Jméno: \_\_\_\_\_

Datum: \_\_\_\_\_

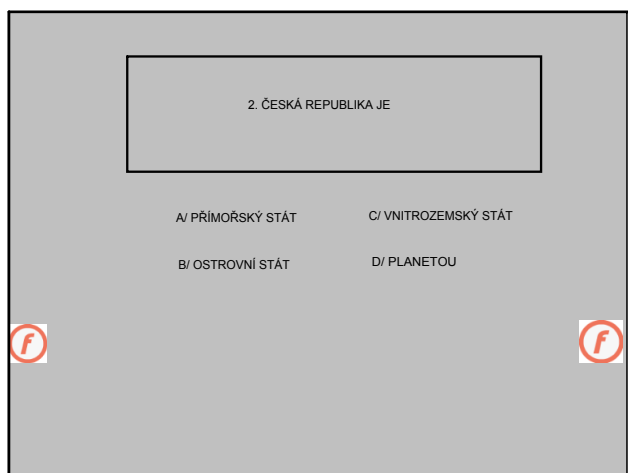
1	
2	
3	
4	
5	
6	
7	
8	
9	
10	
11	
12	
13	
14	
15	
16	
17	
18	
19	
20	



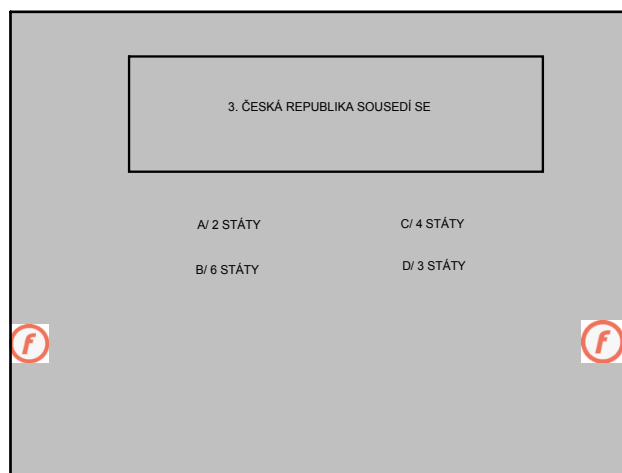
Úvod



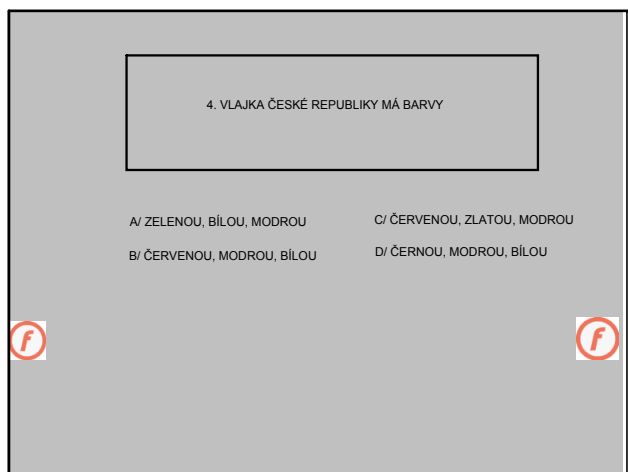
POLOHA ČR



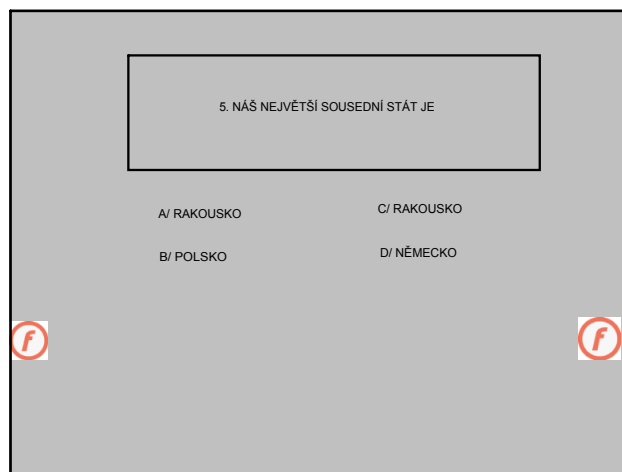
DRUH



SOUSEDÉ





VLAJKA



SOUSED

6. HLAVNÍ MĚSTO ČESKÉ REPUBLIKY JE



A/ BERLÍN                      C/ BRATISLAVA  
 B/ VÍDEŇ                      D/ PRAHA

HL. MĚSTO

7. NEJVYŠŠÍ POHOŘÍ ČESKÉ REPUBLIKY JSOU



A/ BESKYDY                      C/ KRKONOŠE  
 B/ KRUŠNÉ HORY                D/ JIZERSKÉ HORY

POHOŘÍ

8. NEJVYŠŠÍ HORA ČESKÉ REPUBLIKY JE



A/ PRADĚD                      C/ KLÍNOVEC  
 B/ SNĚŽKA                      D/ PLECHÝ

HORA

9. MĚNA (PLATIDLO) ČESKÉ REPUBLIKY JE



A/ EURO                              C/ LYBRA  
 B/ KORUNA ČESKÁ                D/ DOLARY

MĚNA

10. MEZI NÁRODNÍ SYMBOLY NEPATŘÍ



A/ SVATOVÁCLAVSKÁ KORUNA      C/ ŽEZLO  
 B/ LÍPA SRDČITÁ                      D/ HRNEK

NÁRODNÍ SYMBOL

11. NEJDELŠÍ ŘEKA V ČESKÉ REPUBLICE JE



A/ OTAVA                              C/ VLTAVA  
 B/ MORAVA                              D/ LABE

ŘEKA

12. LABE SE V NĚMECKU VLÉVÁ DO



A/ BALTSKÉHO MOŘE                      C/ ČERNÉHO MOŘE  
 B/ SEVERNIHO MOŘE                    D/ INDICKÉHO OCEÁNU

MOŘE

13. NEJVĚTŠÍ PŘEHRADA JE



A/ SLAPY                                      C/ ORLÍK  
 B/ LIPNO                                      D/ VRANOV

PŘEHRADA

14. DO LABE SE VLÉVÁ



A/ OHŘE, VLTAVA                      C/ ODRA, OTAVA  
 B/ MORAVA, DUNAJ                    D/ LUŽNICE, SÁZAVA

PŘÍTOK

15. NÁŠ NEJVĚTŠÍ RYBNÍK JE

A/ ROŽMBERK                              C/ MÁCHOVO JEZERO  
 B/ HRUSICKÝ RYBNÍK                    D/ HORUSICKÝ RYBNÍK

RYBNÍK

16. NA OBRÁZKU JE  animace



A/ PRAŽSKÝ HRAD                      C/ VYŠEHRAD  
 B/ NÁRODNÍ DIVADLO                    D/ VÁCLAVSKÉ NÁMĚSTÍ

HRAD

17. KORUNOVAČNÍ KLENOTY JSOU ULOŽENY V CHRÁMU SV. VÍTA NA HRADČANECH POD



A/ 5 ZÁMKY                                  C/ 7 ZÁMKY  
 B/ 1 ZÁMKEM                              D/ 3 ZÁMKY

ZÁMKY

18. KARLOVY VARY JSOU ZNÁMÉ



A/ VÝROBOU AUTOMOBILŮ	C/ TĚŽBOU ČERNÉHO UHLÍ
B/ LÁZNĚ	D/ VÝROBOU OBUVI



LÁZNĚ

19. MEZI HISTORICKÁ ÚZEMÍ ČR NEPATŘÍ


A/ ČECHY	C/ SLEZSKO
B/ MORAVA	D/ SLOVENSKO



ÚZEMÍ

20. KRNAP JE ZKRATKA PRO

A/ TATRANSKÝ NÁRODNÍ PARK	C/ CHÁNĚNÉ ÚZEMÍ
B/ KRKONOŠSKÝ NÁRODNÍ PARK	D/ KRUŠNÉ HORY



ZKRATKA

ZDROJ

PRAŽSKÝ HRAD - [http://commons.wikimedia.org/wiki/File:Prague\\_Castle\\_Entrance.jpg?useLangno](http://commons.wikimedia.org/wiki/File:Prague_Castle_Entrance.jpg?useLangno), VOLNÉ DÍLO

ZDROJ