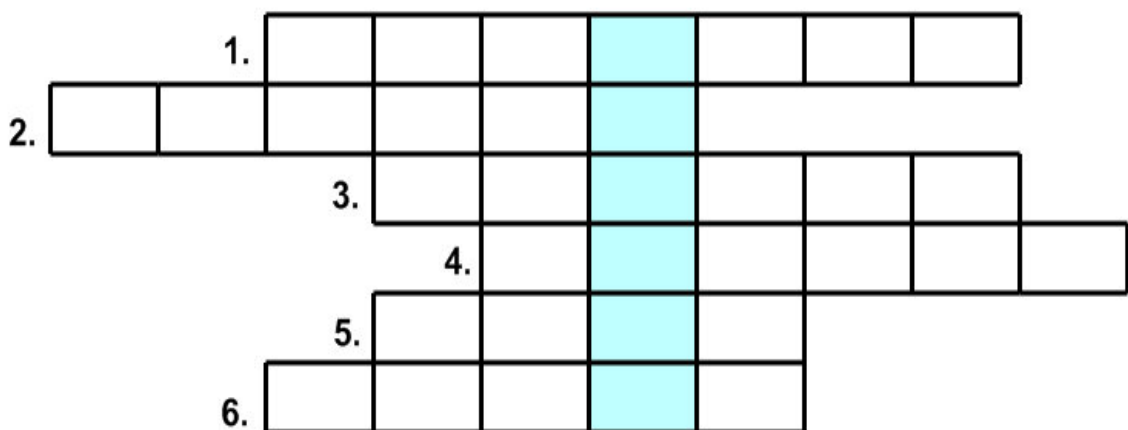


## INVESTICE DO ROZVOJE VZDĚLÁVÁNÍ

Identifikátor materiálu: EU – 2-45 ČLOVĚK A PŘÍRODA

<b>Anotace</b>	Evropa – doplňovačky
<b>Autor</b>	Bc. Irena Staňková
<b>Jazyk</b>	Čeština
<b>Očekávaný výstup</b>	Doplňovačky /motivace/, opakování znalostí, samostatnost při doplňování. Práce v kolektivu nebo samostatně. Žáci mohou použít při práci atlas - orientace.
<b>Speciální vzdělávací potřeby</b>	- žádné -
<b>Klíčová slova</b>	Evropa, pevnina, ostrov, nejvyšší pohoří Evropy
<b>Druh učebního materiálu</b>	Vytvořeno v programu Microsoft Word
<b>Druh interaktivity</b>	Aktivita - doplňovačka
<b>Cílová skupina</b>	Žák
<b>Stupeň a typ vzdělávání</b>	základní vzdělávání žáků s lehkým mentálním postižením
<b>Typická věková skupina</b>	6. ročník
<b>Datum vytvoření materiálu</b>	29. 1. 2012

Vylušti doplňovačku. V tajence se skrývá název světadílu po kterém budeme cestovat...



1/ Jak se jmenuje moře do kterého se vlévá Labe?...

2/ Pevnina ze všech stran obklopená vodou se nazývá?...

3/ Hlavní město Německé spolkové republiky je ?...

4/ Sousední stát České republiky na severu je?...

5/ Nejvyšší pohoří Evropy?...

6/ Světová strana ← ?(kam ukazuje šipka) ...

VYLUŠTI DOPLŇOVAČKU:



1.



3.

1.						
	2.					
3.						
	4.					
5.						



5.




4.



2.

TAJENKA: \_\_\_\_\_

VYLUŠTI DOPLŇOVAČKU:



TAJENKA: \_\_\_\_\_

## KONTROLA

1.	S	E	V	E	R	N	Í	
2.	O	S	T	R	O	V		
3.		B	E	R	L	Í	N	
4.			P	O	L	S	K	O
5.			A	L	P	Y		
6.	Z	Á	P	A	D			

1/ Jak se jmenuje moře do kterého se vlévá Labe?...

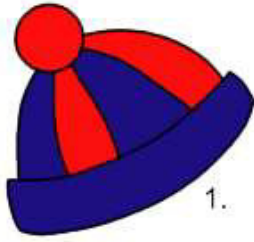
2/ Pevnina ze všech stran obklopená vodou se nazývá?...

3/ Hlavní město Německé spolkové republiky je ?...

4/ Sousední stát České republiky na severu je?...

5/ Nejvyšší pohoří Evropy?...

6/ Světová strana ← ?(kam ukazuje šipka) ...



1.



3.


1.	Č	E	P	I	C	E
		2.	A	U	T	O
3.	K	U	Ř	E		
	4.	M	Í	Č		
5.	J	E	Ž	E	K	



5.



4.



2.



3.



2.




4.

1.	K	A	P	K	A		
2.	D	O	R	T			
3.	K	L	A	D	I	V	O
4.	J	A	H	O	D	A	
5.	B	A	N	Á	N		



1.



5.