

INVESTICE DO ROZVOJE VZDĚLÁVÁNÍ

Identifikátor materiálu: EU – 2 – 43 / 6 – Člověk a příroda

Anotace	Země na mapě – světadíly, oceány, ostrovy, poloostrovy, záliv.
Autor	Bc. Irena Staňková
Jazyk	Čeština
Očekávaný výstup	Žák popíše a pojmenuje světadíly, oceány, poloostrovy, ostrovy, záliv. Porovná jejich velikost.
Speciální vzdělávací potřeby	- žádné -
Klíčová slova	Oceány, světadíly, záliv, ostrov, poloostrov
Druh učebního materiálu	Vytvořeno v programu Smart pro práci s interaktivní tabulí
Druh interaktivity	Prezentace / aktivita
Cílová skupina	Žák
Stupeň a typ vzdělávání	základní vzdělávání žáků s lehkým mentálním postižením
Typická věková skupina	6. třída
Datum vytvoření materiálu	29. 12. 2011

ZEMĚ NA MAPĚ



Obr. 1/ Země z vesmíru



XI 21-17:43

Na mapě světa jsou zobrazeny modrou barvou vodní plochy - oceány, moře, řeky a jezera. Ostatními barvami - bílá, odstíny hnědé a zelené je označena pevnina. Pevnina představuje pouze 29% zemského povrchu.

Velké části pevniny se nazývají světadílů.



Obr. 2/ Mapa světa



XI 21-17:50

Oceán je velká masa vody. Oceány pokrývají 71% povrchu Země. Máme 5 oceánů.



obr.3/ Země - oceány



XI 21-19:23

Světadíl je velká souvislá plocha pevniny. Máme 7 světadílů.



obr. 4/ Světadily



XI 21-18:09

Oceány a moře často zasahují hluboko do pevniny a vytváří zálivy.



obr. 5/ Mapa - Belgický záliv



obr. 6/ Piranský záliv



XI 21-21:26

Pevnina vyběhající daleko do moře tvoří poloostrov. Poloostrov je obklopen ze tří stran vodou.



obr. 7/ Apeninský poloostrov



obr. 8/ Poloostrov Kamenjak



XI 21-22:10

Menší část pevniny, kterou ze všech stran obklopuje voda - moře, oceán, jezero nazýváme ostrov.
Velmi malý ostrov se nazývá ostrůvek.



obr. 9/ Ostrov Tenerife



obr. 10/ Britské ostrovy

f **f**

XI 21-22:35

Do mapy doplň názvy světadílů: zkontroluj podle atlasu.



AFRIKA
EVROPA
ASIE
SEVERNÍ AMERIKA
AUSTRÁLIE
JIŽNÍ AMERIKA
ANTARKTIDA

obr. 11/ Svět

f **f**

XI 21-23:00

Do mapy doplň názvy oceánů: zkontroluj podle atlasu.



Indický oceán
Tichý oceán
Jižní oceán
Severní ledový oceán
Atlantský oceán

obr. 12/ Svět

f **f**

XI 21-23:13

Přifaď k obrázkům správné názvy: OCEÁN POLOOSTROV ZÁLIV
SVĚTADÍL OSTROV



obr. 13



obr. 14



obr. 15



obr. 16



obr. 17

f **f**

XI 21-20:37

PODÍVEJ SE A POSLECHNI SI POVÍDÁNÍ O SVĚTADÍLU, KTERÝ JE POKRYTÝ LEDEM. VÍŠ JAKÝ TO BUDE?

<http://www.youtube.com/watch?v=VbdcDAPfW0&NR=1>

<http://www.youtube.com/watch?v=Y19rFL2Lqks>

Muzikál Osmý světadíl
<http://www.youtube.com/watch?v=m7CnUrU63AE&feature=relmfu>

f **f**

XI 21-20:58





ZDROJ INFORMACÍ:

01. 01. 2012, 08:45:12 - http://www.zemepis.cz/...
02. 01. 2012, 08:45:12 - http://www.zemepis.cz/...
03. 01. 2012, 08:45:12 - http://www.zemepis.cz/...
04. 01. 2012, 08:45:12 - http://www.zemepis.cz/...
05. 01. 2012, 08:45:12 - http://www.zemepis.cz/...
06. 01. 2012, 08:45:12 - http://www.zemepis.cz/...
07. 01. 2012, 08:45:12 - http://www.zemepis.cz/...
08. 01. 2012, 08:45:12 - http://www.zemepis.cz/...
09. 01. 2012, 08:45:12 - http://www.zemepis.cz/...
10. 01. 2012, 08:45:12 - http://www.zemepis.cz/...
11. 01. 2012, 08:45:12 - http://www.zemepis.cz/...
12. 01. 2012, 08:45:12 - http://www.zemepis.cz/...
13. 01. 2012, 08:45:12 - http://www.zemepis.cz/...
14. 01. 2012, 08:45:12 - http://www.zemepis.cz/...
15. 01. 2012, 08:45:12 - http://www.zemepis.cz/...
16. 01. 2012, 08:45:12 - http://www.zemepis.cz/...
17. 01. 2012, 08:45:12 - http://www.zemepis.cz/...
18. 01. 2012, 08:45:12 - http://www.zemepis.cz/...
19. 01. 2012, 08:45:12 - http://www.zemepis.cz/...
20. 01. 2012, 08:45:12 - http://www.zemepis.cz/...

f **f**

XI 21-18:09

SPRÁVNÉ ŘEŠENÍ:
Přiřaď k obrázkům správné názvy:

 Obr. 13 OSTROV	 Obr. 15 OCEÁN	 Obr. 16 POLOOSTROV
 Obr. 14 ZÁLIV	 Obr. 17 SVĚTADÍL	

XI 21-20:57