

Opakování – doprava, čas, mapa

Doprava

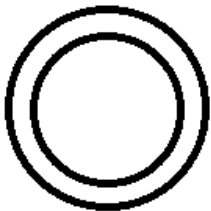
1. Vybarvěte dopravní značky dle skutečnosti, zakroužkujte správný název.



- a) Vedlejší silnice
- b) Hlavní silnice



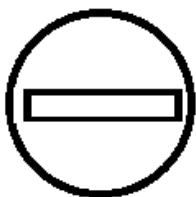
- a) Dej přednost v jízdě
- b) Stůj



- a) Zákaz vjezdu všech vozidel
- b) Zákaz vstupu.



- a) Jednosměrný provoz
- b) Jeďte rovně.

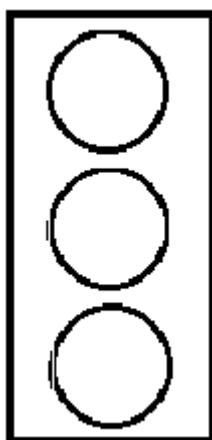


- a) Vjezd povolen
- b) Zákaz vjezdu v tomto směru

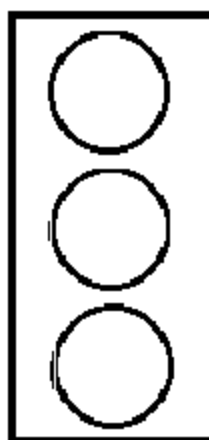


- a) Pozor křižovatka
- b) Jiné nebezpečí.

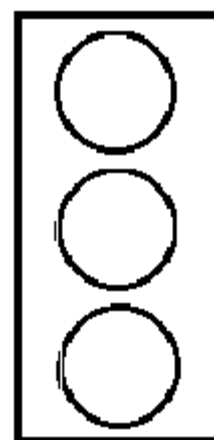
2. Vybarvěte správně světelný signál na semaforu.



Stůj !



Pozor !



Volno !

Čas

1) Vybarvěte měsíce podle ročních období.

jaro - žlutá **léto** - červená **podzim** - hnědá **zima** - modrá

březen	únor	listopad	květen
červenec	duben	srpen	prosinec
leden	červen	září	říjen

2) Doplňte správný údaj do věty.

Rok má _____ měsíců.

Rok má _____ dnů.

Týden má _____ dnů.

Den má _____ hodin.

3) Napište dny v týdnu ve správném pořadí.

4) Označ číslem jednotlivé části dne ve správné pořadí.

poledne ráno večer dopoledne noc odpoledne

Mapa


1) Vybarvěte obdélník správnou barvou.

Hory na mapě znázorňujeme barvou.

Nížiny na mapě znázorňujeme barvou.

Řeky, moře, oceány na mapě znázorňujeme barvou.

2) Spojte mapovou značku s jejím názvem.



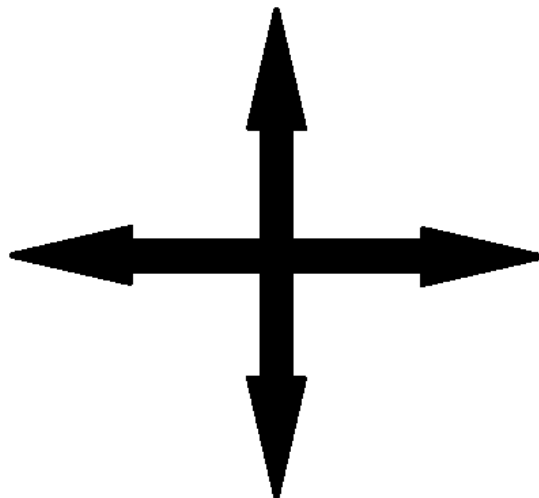
železnice

hrad

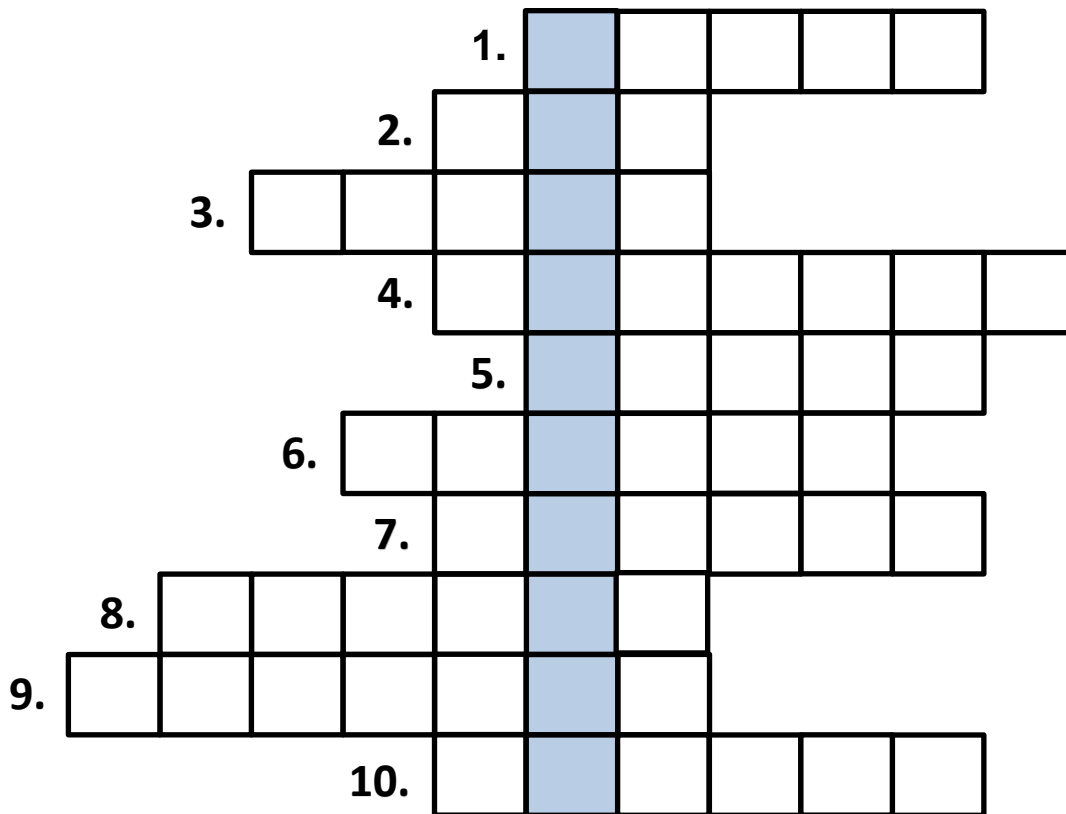
město

zřícenina

3) Doplňte do směrové růžice základní světové strany.



Vyluštěte křížovku.



1. Název prvního měsíce v roce.

2. Název světové strany.

3. Co znamená na mapě tato značka .

4. Název prvního dne v týdnu.

5. Jaká barva znázorňuje na mapě řeky, moře a oceány.

6. Název pátého měsíce v roce.

7. První jarní měsíc.

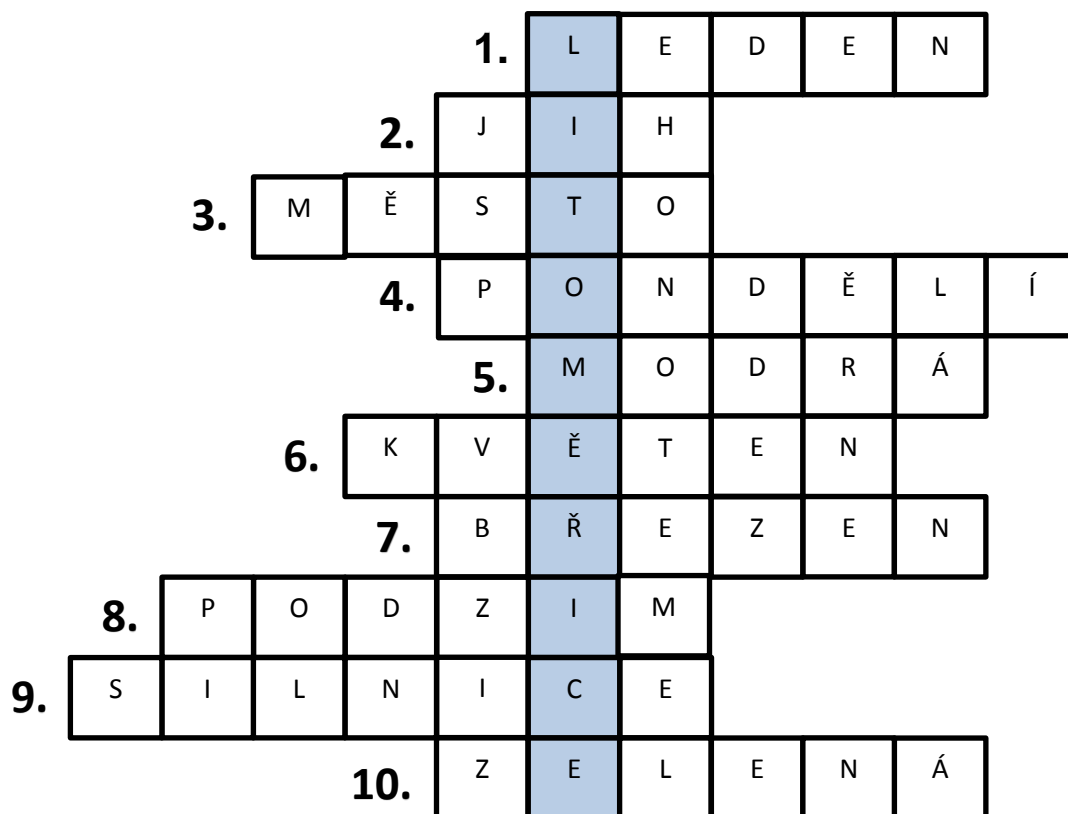
8. Název ročního období.

9. Červenou čarou na mapě je značena...

10. Jaká barva znázorňuje na mapě nížiny.

Tajenka: _____

Řešení:



Použité zdroje:

Dopravní značky, semafor a směrová růžice byly vytvořeny v aplikaci

Malování.

Ostatní obrázky jsou kresby autorek.