

Násobení a dělení číslem 6

anotace

Vysvětlivky k použitým symbolům



Zde žák používá psací pero.



Zde použita animace dotykem.



Tento objekt je klonovací.



Posuvný objekt.



Pod tímto objektem je skryto řešení,
po odsunutí může žák provést kontrolu.



A

Násobení číslem 6

$1 \cdot 6 = 6$

$2 \cdot 6 = 12$

$3 \cdot 6 = 18$

$4 \cdot 6 = 24$

$5 \cdot 6 = 30$

$6 \cdot 6 = 36$


$7 \cdot 6 = 42$

$8 \cdot 6 = 48$

$9 \cdot 6 = 54$

$10 \cdot 6 = 60$





2 . 6 = _____

7 . 6 = _____

4 . 6 = _____

8 . 6 = _____

3 . 6 = _____

6 . 6 = _____

1 . 6 = _____



Přesuň příklad ke správnému výsledku.



4.5 4.6	=	12
10.3 9.4 6.5	=	20
10.4 10.2 2.6	=	24
8.5 4.3 5.4	=	30
6.4 6.2 8.3	=	36
6.6 5.6 3.4	=	40



Řešení:

6.2 2.6 4.3 3.4	=	12
4.5 5.4 10.2	=	20
8.3 6.4 4.6	=	24
5.6 6.5 10.3	=	30
9.4 6.6	=	36
8.5 10.4	=	40

f *f*

A

Dělení číslem 6

$$6 : 6 = 1$$

$$12 : 6 = 2$$

$$18 : 6 = 3$$

$$24 : 6 = 4$$

$$30 : 6 = 5$$

$$36 : 6 = 6$$

$$42 : 6 = 7$$

$$48 : 6 = 8$$

$$54 : 6 = 9$$

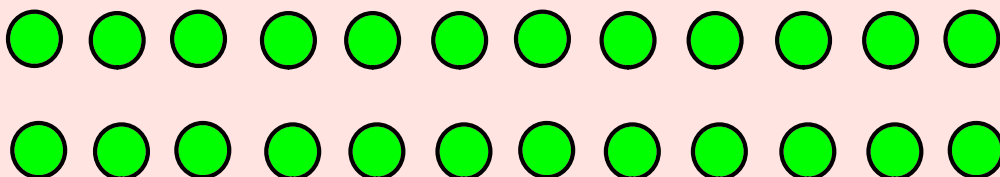
$$60 : 6 = 10$$




Předměty rozdělte do skupin po šesti, napište správný výsledek.



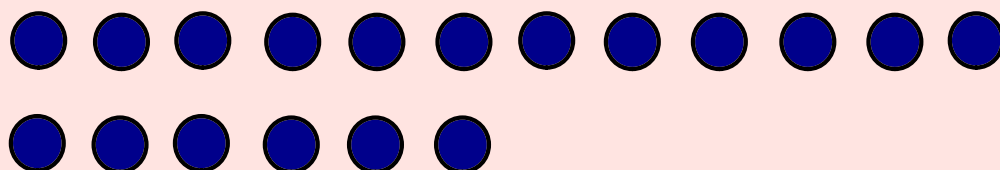
$24 : 6 = \underline{\quad}$




$36 : 6 = \underline{\quad}$



$18 : 6 = \underline{\quad}$



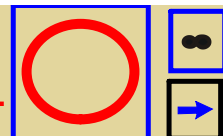
$30 : 6 = \underline{\quad}$



$12 : 6 = \underline{\quad}$



Dej do kroužku čísla, která jsou dělitelná číslem 6.



18 60 52 38 12 21 36 6 24 39

Doplň číslo 6krát menší.



24	36	54	6	48	18	30	42	12
<input type="text"/>	<input type="text"/>	<input type="text"/>	<input type="text"/>	<input type="text"/>	<input type="text"/>	<input type="text"/>	<input type="text"/>	<input type="text"/>

1 2 3 4 5 6 7 8 9 10



Vyřešte slovní úlohu. 

Jedna sušenka stojí **7 Kč**. Kolik korun Dana zaplatí za **6** sušenek?

sušenka ... Kč

sušenek ... příklad: _____

Dana zaplatí _____ Kč.

řešení:

Zdena má **54** samolepek. Petra jich má **6krát méně**.
Kolik samolepek má Petra ?

Zdena ...

Petra ... krát méně

příklad: _____

Petra má _____ samolepek. řešení:




Použité zdroje:

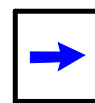
V tomto souboru byly použity obrázky z Galerie programu Smart.



tužka



nekonečno



šipka



Vytvořeno v programu Smart.



Vytvořeno v programu Smart.



EU-2-10.doc

EU-2-11.doc